

ХВСЕРРОССИЙСКАЯ ОЛИМПИАДА ШКОЛЬНИКОВ ПО ГЕОГРАФИИ
ШКОЛЬНЫЙ ЭТАП 2023-2024 УЧЕБНЫЙ ГОД

7 класс

7 В 2

24,58

Уважаемый участник олимпиады! Вамему вниманию предлагаются задания тестового и аналитического раундов, на выполнение которых отводится 135 минут (на тестовое задание – 45 минут и аналитическое – 90 минут).

Тестовое задание включает 25 вопросов, каждый из которых содержит несколько элементов ответов и оценивается определенным количеством баллов (от 0,5 до 1 балла). Общая оценка ответов на вопросы тестового задания представляет собой сумму баллов за отдельные вопросы и максимально составляет 30 баллов.

Аналитический раунд включает задания различной степени сложности. Каждый элемент задания оценивается определенным количеством баллов (от 1 до 5 баллов). Общее количество заданий составляет 5, максимальное количество баллов за правильные ответы – 70 баллов.

При ответах на вопросы тестового задания и заданий аналитического раунда запрещается пользоваться географическими картами, атласами, словарями и справочными материалами.

Тестовый раунд

1. Кто из ученых первым предложил изображать на географических картах параллели?
 а) Мартин Бехайм
 б) Эратосфен
 в) Франсис Дрейк
 г) Птолемей

2. Выберите правильное утверждение:

- а) средний радиус Земли длиннее ее полярного радиуса и короче экваториального
 б) длина дуги параллели увеличивается при движении от экватора к полюсам
 в) длина экватора меньше длины любого из меридианов
 г) по меридианам определяется направление «восток-запад»

3. Для каких гор характерны наиболее сильные землетрясения?

- а) Уральских гор
 б) Анд
 в) Аппалачей
 г) Восточный Саян

4. Какой из хребтов Северного Ледовитого океана является срединным?

- а) Менделеева
 б) Ломоносова
 в) Гаккеля
 г) Срединно-океанический

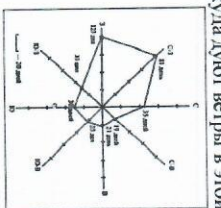
5. Какая группа полезных ископаемых образуется в районах вулканической деятельности?

- а) рудные
 б) торфяные
 в) каустобиолиты
 г) строматолиты

6. Снеговая линия в Скандинавских горах проходит значительно ниже, чем на Тянь-Шане. Это объясняется их

- а) меньшей абсолютной высотой
 б) большим количеством осадков
 в) расположением в более северных широтах
 г) территориальной близостью к океану

7. Откуда дуют ветры в этой местности большую часть года?

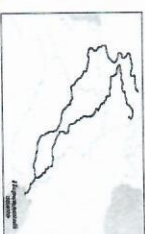


- а) с востока
 б) на восток
 в) с северо-запада
 г) на юг

8. Укажите, в каком случае значение амплитуды температур воздуха будет максимальной:

- а) -16°C и +16°C
 б) +3°C и +33°C
 в) -4°C и +17°C
 г) -20°C и -49°C

9. Как называются реки, вытекающие на карте?



- а) Тигр и Евфрат
 б) Амударья и Сырдарья
 в) Дунай и Днепр
 г) Парана и Уругвай

10. Как называется самое мощное течение южного полушария?

- а) Гольфстрим
 б) течение Западных Ветров
 в) Перуанское
 г) Канарское

11. Установите последовательность рек по уменьшению среднегодового расхода воды

- а) Лена
 б) Ганг
 в) Конго
 г) Волга

12. Установите соответствие «крупный город – река, на которой он расположен»

- | | |
|--------------------|-----------|
| а) Хабаровск | 1) Волга |
| б) Новосибирск | 2) Енисей |
| в) Красноярск | 3) Обь |
| г) Нижний Новгород | 4) Амур |

13. Выберите правильный ответ, в котором все из перечисленных городов носят звание «города-героя»

- а) Москва, Красноярск, Нижний Новгород, Астрахань
- б) Хабаровск, Новосибирск, Казань, Екатеринбург
- в) Ярославль, Ростов-на-Дону, Рязань
- г) Волгоград, Санкт-Петербург, Мурманск, Тула

14. Какое количество морей Северного Ледовитого океана, омываюг территорию России?

- а) 4
- б) 5
- в) 6
- г) 7

15. Выберите правильный вариант ответа, отражающий последовательность расположения частей света по уменьшению их площади

- а) Америка, Африка, Азия, Антарктида, Австралия, Европа
- б) Африка, Азия, Америка, Антарктида, Европа, Австралия
- в) Антарктида, Азия, Америка, Европа, Австралия, Африка
- г) Азия, Америка, Африка, Антарктида, Европа, Австралия

16. В каком климатическом поясе лежит южная часть Северо-Американского материка между 40° с.ш. и 30° с.ш.?

- а) умеренном
- б) субтропическом
- в) тропическом
- г) экваториальном

17. Какие из перечисленных островов не расположены в Северном Ледовитом океане?

- а) Врангеля
- б) Алеутские острова
- в) Новосибирские острова
- г) Земля Франца-Иосифа

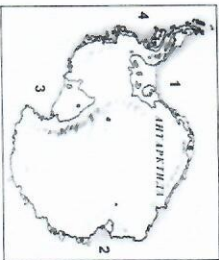
18. Выберите страны Евразии, расположенные в Европе и в Азии

- а) Казахстан
- б) Болгария
- в) Чехия
- г) Турция

19. Какая из рек Евразии является наиболее полноводной?

- а) Волга
- б) Янцзы
- в) Брахмапутра
- г) Меконг

20. Какие моря омывающие Антарктиду, обозначены на карте цифрами?



а) море Беллинсгаузена

б) море Содружества

в) море Росса

г) море Уэдделла

21. Какие из горных систем располагаются на материке Северная Америка?

- а) Аппалачи
- б) Кордильеры
- в) Анды
- г) Тималани

22. Название какого орографического объекта Южной Америки происходит от словосочетания индейцев «мелкие горы»?

- а) Кордильеры
- б) Анды
- в) Тималани
- г) Атлас

23. На каких языках говорит подавляющее большинство населения Южной Америки?

- а) на испанском и португальском
- б) на английском и немецком
- в) на французском и эсперанто
- г) турецком и бенгальском

24. На территории какой страны расположен заповедник "Кроноцкий"?

- а) США
- б) Украина
- в) Кения
- г) Россия

25. Какой животный и растительный мир характерен для саванн?

- а) песцы, северные олени, брусника, морошка
- б) козыль, пирей, лисичка, сурки
- в) антилопы, леопарды, баобаб, зябковье
- г) моржи, белые медведи, мхи, лишайники

Теоретический тур

Задание 1. Установите соответствие. (6 баллов)

- | | |
|----------------|--------------------|
| 1) 10 рублей | А) Москва |
| 2) 50 рублей | Б) Ярославль |
| 3) 100 рублей | В) Хабаровск |
| 4) 500 рублей | Г) Красноярск |
| 5) 1000 рублей | Д) Санкт-Петербург |
| 6) 5000 рублей | Е) Архангельск |

Ответ: 1-Г 2-Б 3-В 4-Е 5-Д 6-А

Задание 2.

На Земле есть замечательный материк. Следуя на корабле вдоль его берегов с запада на восток, путешественник пересечет три океана: север и юг на этом материке мгновенно «меняются» местами. И, наконец, в этих местах человек не всегда в состоянии отличить море от суши.

Какой это материк? Какие три океана можно пересечь? Почему север и юг мгновенно меняются местами? Почему в этих местах сложно отличить море от суши?
 Количественно баллов — 18.

Евразия. Можно пересечь Тихий океан, Индийский океан, Атлантический океан.

35

Задание 3.

Болота являются типичными и широко распространенными экосистемами лесных районов Нижегородской области. Ряд ученых называли болота «болотная биогенноза», которую необходимо «гнать» путем осушения. Докажите, что болота являются исключительно важной частью природного комплекса и имеют значение для человека.

Роль в природе
 Значение для человека
 Максимальное количество баллов — 12.

35

Задание 4. Проанализируйте особенности вращения Земли вокруг своей оси и его следствия. Ответы запишите в таблице.

Вопрос	Ответы
Каковы особенности вращения Земли вокруг своей оси?	
1.1. Вращение Земли вокруг оси	Своя вращение по часовой стрелке
1.2. Период вращения	
1.3. Направление вращения	Слева для и ноге
1.4. Следствия вращения Земли	часовой стрелке

Максимальное количество баллов — 18.

Задание 5. Какое наибольшее расстояние можно проехать на земном шаре по азимуту 0°, 90°, 180°, 270°, не меня азимута движения?

Вопрос	Ответы
Какое наибольшее расстояние можно проехать на земном шаре по азимуту 0°, 90°, 180°, 270°, не меня азимута движения?	

Максимальное количество баллов — 16.