

Шифр 514

**ВСЕРОССИЙСКАЯ ОЛИМПИАДА ШКОЛЬНИКОВ ПО ИСТОРИИ.
ШКОЛЬНЫЙ ЭТАП, 2023-2024 УЧЕБНЫЙ ГОД
5 КЛАСС.**


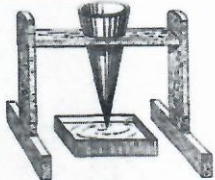













Время выполнения 45 минут.
Максимальное количество баллов 100.

Задание 1

Рассмотрите изображения. Для каждой функции подберите все подходящие орудия труда.
Для каждой функции: за верно подобранные изображения – по 2 балла. Максимум за задание – 30 баллов

Функции:

1. обработка земли *10, 3*
2. обработка ткани/одежды *12, 1, 11*
3. отсчёт времени *14, 6*
4. охота *15, 9, 3, 7, 8*
5. приготовление пищи *4, 5, 13, 2*

1. 	2. 	3. 
4. 	5. 	6. 
7. 	8. 	9. 
10. 	11. 	12. 
13. 	14. 	15. 

Задания 3-5

3. Внимательно рассмотрите схему и выполните предложенные задания.

За каждый правильный ответ – 3 балла. За каждый неверный выбор штраф – 1 балл.



36 Максимум за задание – 9 баллов.

На схеме коричневой линией обозначены границы одного государства. Выберите имя его правителя.


1. Александр Македонский
2. Кир Великий
3. Тит Ливий
4. Ксеркс
5. Дарий I
6. Юлий Цезарь

Ответ: Александр Македонский

0 4. Укажите название города-государства, известного своей строгой системой общественной организации и воспитания, скрытого на схеме под цифрой 1.

1. Афины
2. Херсонес
3. Спарта
4. Фивы
5. Урук
6. Ниневия

Ответ: Афины



98
7. Ответ: 1, 2, 6.

38 7. Выберите изображение, связанное с историей России. За выбор верного ответа – 3 балла.

Ответ: 4

38 8. Выберите иллюстрации, на которых изображены архитектурные памятники, относящиеся к так называемым семи чудесам света. За каждый правильный ответ – 3 балла. Максимум за задание – 6 баллов.

Ответ: 5, 7

9. Прочитайте текст и выберите изображение, которое связано с приведённой легендой. За выбор верного ответа – 3 балла.

38 На всей земле был один язык и одно наречие. Двинувшись с востока, они нашли в земле Сеннаар равнину и поселились там. И сказали они: построим себе город и башню, высоту до небес, и сделаем себе имя, прежде нежели рассеемся по лицу всей земли. И сошёл Господь посмотреть город и башню, которые строили сыны человеческие. И сказал Господь: вот, один народ, и один у всех язык; и вот что начали они делать, и не отстанут они от того, что задумали делать; сойдём же и смешаем там язык их, так чтобы один не понимал речи другого. И рассеял их Господь оттуда по всей земле; и они перестали строить.

Ответ: 4

Задание 10

В древности люди верили, что всем на земле управляют боги: движением звёзд, разливом рек, восходом и заходом солнца, урожаем, поведением животных и многим другим. Многие названия объектов происходят от имени богов. Ознакомьтесь с хвалебной песней и заполните пропуски в её тексте.

За выбор каждого верного ответа – по 3 балла. Максимум за задание – 9 баллов.

Задание 12

Прочитайте описание одного важного исторического открытия и выберите, что же было сделано выдающимся французским учёным. **За выбор верного ответа – 7 баллов.**

Два века назад в Египте нашли большой чёрный камень, покрытый надписями, сделанными на разных языках. Один французский учёный заметил, что некоторые слова обведены овальной рамкой, причём столько раз, сколько в греческой надписи встречалось имя фараона Птолемея. Учёный предположил, что так египтяне выделяли царские имена. На другом камне, также содержащем один и тот же текст на двух языках, он обнаружил в овальной рамке имя царицы Клеопатры. В словах «Птолемей» и «Клеопатра» есть общие звуки п, т, л – и знаки в двух рамочках совпадали. Так учёный доказал, что рисунки могут обозначать на письме звуки речи.

1. Была разгадана технология строительства пирамид.
- ②. Благодаря наблюдениям французского учёного удалось расшифровать иероглифы.
3. Таким образом была открыта древняя технология изготовления папируса.
4. Усилиями учёного был создан первый алфавит.
5. Была открыта древняя технология резки по камню.

45
Ответ: Благодаря наблюдениям французского учёного удалось расшифровать иероглифы.

что-то: 45. Лиз

Слава тебе, (1) Тисфун, выходящий из этой земли, Приходящий, чтобы оживить (2) Египет! <... >
 Орошающий поля, сотворённый (3) Зевсом.
 Чтобы всех животных оживить.

Напоющий пустыню далеко от воды, Роса его спускается с небес.

(1)	(2)	(3)
Нил	Месопотамию	Ра
Посейдон ✓	Македонию	Исидой
Тигр	Египет ✓	Мардуком
Хуанхэ	Ассирию	Зевсом

Ответ:

<u>Посейдон</u>	<u>Египет</u>	<u>Зевсом</u>
-----------------	---------------	---------------

Задание 11

Прочитайте текст и заполните пропуски. За выбор каждого верного ответа – по 3 балла. Максимум за задание – 9 баллов.

Законы в _____ 1 _____ были суровы. Правитель этого государства _____ 2 считал, что высшая справедливость заключается в том, чтобы наказание соответствовало преступлению, потому не стоит удивляться видам наказания за различные преступления. Например, «если человек выбил зуб человеку, _____ 3 _____» – так гласили законы государства. Тем не менее такие законы позволяли защитить подданных от беззакония и незаслуженной обиды, и эти законы вошли в историю.

№1	№2	№3
Ассирии	Аппшурбанапал	будет он продан в рабство
Вавилоне	Крѐз	должен он быть казнѐн
Древней Индии	Рамсес II	ему следует выбить зуб
Нижнем Египте	Соломон	отдаст он всё своё имущество пострадавшему человеку
Финикии	Хаммурапи	да будет он прощён и не продолжено насилие

Ответ:

1	2	3
<u>ДРЕВНЕЙ ИНДИИ</u>	<u>Рамсес II</u>	<u>ему следует выбить зуб</u>


5. Выберите верные утверждения.

1. На схеме обозначены территории Междуречья.
2. В границах схемы присутствуют некоторые территории, входящие в состав современной России.
3. На схеме обозначена столица Карфагена.
4. На схеме обозначены столицы Верхнего и Нижнего Египта.
5. На схеме обозначен остров, на территории которого, по преданиям, находился лабиринт с Минотавром.
6. На схеме обозначено море, в древности называвшееся Варяжским.

35
Ответ: 2, 5, 1

Задания 6-9

6. Выберите изображения, относящиеся к истории Древнего Египта. За каждый правильный ответ – 3 балла. Максимум за задание – 9 баллов.



Ответ:

225






Функция	Номера +		
обработка земли	10, 3		
обработка ткани одежды	12, 8, 11		
отсчёт времени	14, 6		
охота	15, 9, 7, 8		
приготовление пищи	4, 5, 13, 2		

+ + +

Задание 2

Расставьте в хронологическом порядке представленные на иллюстрациях архитектурные сооружения от раннего (1) к позднему (5).

По 3 балла за каждую верную позицию. Максимум за задание – 15 баллов.

<p>✓</p> <p>1</p> <p>1.</p>		<p>✓</p> <p>3</p> <p>2.</p>	
<p>✓</p> <p>2</p> <p>3.</p>		<p>✓</p> <p>5</p> <p>4.</p>	
<p>✓</p> <p>4</p> <p>5.</p>			

155

Ответ:

1 3 2 5 4